

IranArze.ir

@iranarze

@iranarze

کد محصول
ES432

آخرین بروزرسانی
۱۹ فروردین ۱۴۰۵

سوالات استخدامی

بانک ملت

ویژه آزمون استخدامی بانک ملت ✓

نسخه رایگان شامل ۲۷۵ سوال (تعداد کمتر و تنها برخی دارای پاسخ) ✓

برای تهیه نسخه اصلی، با ۱۶۱۵ سوال به همراه پاسخنامه تشریحی، به سایت ایران عرضه مراجعه نمایید. ✓



لینک های مفید آزمون استخدامی بانک ملت

خرید این محصول	سوالات رایگان بانک ملت با پاسخنامه
خرید درسنامه بانک ملت	سوالات رایگان بانک ها با پاسخنامه
خرید سوالات عمومی بانک ها	منابع آزمون
اخبار آزمون	شبکه های اجتماعی ایران عرضه (فایل های رایگان + تخفیفات هفتگی + اخبار)
(برای مشاهده هر بخش روی آن بزنید )	
<p>آخرین بروزرسانی های محصول:</p> <p>۱۴۰۵/۰۱/۱۹ تالیف مجدد محصول</p>	

فهرست مطالب

- ❖ فصل اول: سوالات هوش و توانمندی های عمومی - صفحه ۴ (۱۰ سوال)
- ❖ فصل دوم: سوالات معارف اسلامی - صفحه ۷ (۱۰ سوال)
- ❖ فصل سوم: سوالات زبان و ادبیات فارسی - صفحه ۹ (۱۰ سوال)
- ❖ فصل چهارم: سوالات مهارت های هفتگانه فناوری اطلاعات - صفحه ۱۱ (۱۰ سوال)
- ❖ فصل پنجم: سوالات قوانین و مقررات اداری و قانون اساسی - صفحه ۱۳ (۱۰ سوال)
- ❖ فصل ششم: سوالات اطلاعات عمومی - صفحه ۱۵ (۱۰ سوال)
- ❖ فصل هفتم: سوالات ریاضی و آمار مقدماتی - صفحه ۱۷ (۱۰ سوال)
- ❖ فصل هشتم: سوالات زبان انگلیسی عمومی - صفحه ۱۸ (۱۰ سوال)
- ❖ فصل نهم: سوالات تفکر تحلیلی سیستمی - صفحه ۱۹ (۱۰ سوال)
- ❖ فصل دهم: اصل سوالات آزمون استخدامی بانک ملت آبان ۱۴۰۳ - صفحه ۲۱ (۲۵ سوال)
- معارف اسلامی- زبان انگلیسی- ادبیات فارسی و آئین نگارش- هوش و استعداد - اطلاعات عمومی- سایر بخش ها
- ❖ فصل یازدهم: سوالات عمومی ادوار گذشته آزمون های استخدامی بانک ها، فراگیر و سازمان های دولتی - صفحه ۲۵ (۱۶۰ سوال)
- معارف اسلامی - زبان و ادبیات فارسی - اطلاعات عمومی و دانش اجتماعی - قوانین و مقررات اداری و قانون اساسی
- ریاضی و آمار مقدماتی - توانمندی های ذهنی و ویژگی های رفتاری - زبان خارجه - فناوری اطلاعات

در هر بخش، تنها ۱ سوال ابتدایی دارای پاسخنامه تشریحی می باشد. در صورت تمایل به دریافت سوالات بیشتر با جواب تشریحی می توانید این محصول را از سایت ایران عرضه خریداری نمایید.

خرید محصول

❖ فصل اول: سوالات هوش و توانمندی های عمومی

«اگرچه اکثر دانشگاه ها حقوق مربوط به اختراعات اعضای هیئت علمی را برای خود حفظ میکنند، با این حال اعضای هیئت علمی حق التألیف کتب و مقالات خود را دریافت میکنند. بنابراین اعضای هیئت علمی باید حق الامتیاز تولید نرم افزار های آموزش کامپیوتری مربوط به خود را حفظ کنند»

۱- نتیجه گیری بالا معقول تر میبود اگر کدام گزینه به عنوان پیش فرض اضافه در استدلال آن وارد شود؟

(۱) اعضای هیئت علمی بیشتر احتمال دارد نرم افزار های آموزشی تولید کنند تا اختراعی انجام دهند.

(۲) اختراعات منزلت بیشتری برای دانشگاه ها به ارمغان میاورند تا کتب و مقالات.

(۳) بنا به تجربه اکثر دانشگاه ها، نرم افزار های آموزشی از قابلیت بیشتری برای عرضه به بازار برخوردارند تا کتب و مقالات.

(۴) از نقطه نظر موازین مورد استفاده برای اعطا حق الامتیاز، نرم افزار های آموزشی بیشتر با کتب و مقالات قابل مقایسه اند تا با اختراعات.

❑ پاسخ سایت ایران عرضه: گزینه ۴ ⇐ در صورتی که متن را به صورت استدلالی و خط به خط بنویسیم خواهیم داشت:

مقدمه: دانشگاه ها معمولاً حقوق اختراعات هیئت علمی رو برای خودشون نگه میدارند.

مقدمه: هیئت علمی اما حق التألیف کتب و مقالات رو میگیرند.

نتیجه: بنابراین هیئت علمی باید حق الامتیاز نرم افزار های آموزشی خودشون رو هم بگیرند.

این نتیجه فقط زمانی منطقی تلقی میشه که نرم افزار آموزشی از لحاظ حقوقی / ماهیتی به کتاب و مقاله تشابه بیشتری دارند تا به اختراعات. میتوان دید که گزینه ۴ نیز دقیقاً این حالت را توصیف میکند، لذا پاسخ صحیح گزینه ۴ است.

«اندازه گیری میزان کارایی افرادی که در بخش خدمات کار میکنند بسیار پیچیده است. مثلاً برای کارمندان اداره پست، چنان مطرح شده است تعداد نامه هایی که هر مامور تحویل میدهد، نشان دهنده میزان کارایی اوست. مسلماً چنین تعبیری از کارایی چندان قابل دفاع نیست زیرا تحویل دادن تعداد بیشتری از نامه ها ممکن است همراه باشد با مفقود شدن، تاخیر و یا اشتباه در تحویل آن ها»

۲- انتقادی که در متن بالا مطرح شده است، در کدام یک از گزینه های زیر نیز منعکس گردیده است؟

(۱) نامه رسان پست یک شغل خدماتی است ولی نمیتواند معرف تمام مشاغل خدماتی باشد.

(۲) وظیفه اول اداره پست، رساندن نامه ها به دست صاحبان آنهاست.

۳) کیفیت کار افرادی که در بخش خدمات کار میکنند، در سنجش کارایی آنان، به سادگی میتواند نادیده گرفته شود.

۴) تعداد نامه هایی که ماموران به درستی تحویل میدهند، شاخص مناسبی برای میزان کارایی آنان است.

«آلودگی محیط زیست تنها مربوط به آلودگی هوا و آلودگی آبها و محیط فیزیکی نیست، آلودگی صدا نیز مطرح است و از همه بدتر، آلودگی ناشی از فقر اقتصادی، اجتماعی و فرهنگی است که بدترین نوع آلودگی را ایجاد میکند و توجه چندانی

هم در بحث های مربوط به آلودگی به آنها نمیشود.»

۳- کدامیک از جملات زیر منظور نویسنده متن را فوق را بهتر بیان میکند؟

۱) برای حفظ محیط زیست، آلودگی هوا و محیط فیزیکی باید به حداقل برسد.

۲) فقر فرهنگی از فقر اجتماعی و اقتصادی، آلودگی بیشتری ایجاد میکند.

۳) کم کردن سر و صدا از مهمترین موارد تنظیم محیط زیست است.

۴) متخصصان محیط زیست به مهمترین آلودگی، کمترین توجه را دارند.

* در یک برد کنترلی ۱۰ لامپ در یک ردیف قرار دارند. لامپ ها از ۱ تا ۱۰ به ترتیب از چپ به راست شماره گذاری شده اند.

هر لامپ یا روشن است یا خاموش. همچنین قوانین زیر بر آنها حاکم است:

- هیچ دو لامپی با شماره های متوالی، با هم روشن نیستند.

- هیچ سه لامپی با شماره های متوالی با هم خاموش نیستند.

- دقیقا چهار لامپ از ۱۰ لامپ روشن است.

- لامپ ۳ خاموش است

۴- کدامیک از حالت های زیر میتواند یکی از حالات معتبر برای لامپ های ۱ تا باشد؟

۱) off , off , off , on , off , on , off , on , off , on

۲) on , off , off , on , off , off , on , off , on , off

۳) off , on , off , on , off , on , off , on , off , on

۴) off , off , on , off , on , off , on , off , on , off

۵- اگر لامپ چهار خاموش باشد، کدامیک از عبارات زیر درست است؟

۱) لامپ ۱ روشن است

۲) لامپ ۲ خاموش است

۳) لامپ ۵ خاموش است

۴) لامپ ۶ خاموش است

۶- اگر لامپ ۹ و ۱۰ خاموش باشند، کدامیک از عبارات زیر حتما درست است؟

۱) لامپ ۱ روشن است

۲) لامپ ۲ خاموش است

۳) لامپ ۴ روشن است

۴) لامپ ۵ روشن است

۷- اگر لامپ ۶ روشن و لامپ ۸ خاموش باشد، برای چه تعداد از لامپ ها وضعیت روشن یا خاموش بودن آنها را میتوان مشخص کرد؟

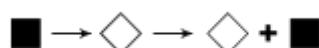
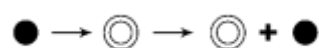
- (۱) ۵ (۲) ۶ (۳) ۷ (۴) ۸

۸- در بحث متدولوژی علم، توجه خاص باید

- (۱) به مسئله ی اندازه گیری که طبیعتاً با اعداد سر و کار دارد توجه شود
(۲) به مسئله ی اندازه گیری معطوف شود که به طور طبیعی با اعداد سر و کار دارد
(۳) به اندازه وسایل مربوطه به آن معطوف شود
(۴) به اعداد معطوف شود که در اندازه گیری طبیعتاً مصداق پیدا میکند.

۹- اگر عقربه های ساعت دیواری در آینه محل کار ۳:۳۰ را نشان دهد، زمان واقعی چند است؟

- (۱) ۸:۳۰ (۲) ۹:۳۰ (۳) ۱۰:۳۰ (۴) ۲:۳۰



۱۰- ادامه الگو کدام تصویر است؟ (متعلق به سایت ایران عرضه)



(۴)



(۳)



(۲)



(۱)

❖ فصل دوم: سوالات معارف اسلامی

۱- درک فقر و نیاز بشر نسبت به خدا در گرو چیست؟

(۱) غنای حقیقی (۲) کمال حقیقی (۳) علم حقیقی (۴) ایمان حقیقی

❑ پاسخ سایت ایران عرضه: گزینه ۴ ➡ انسانها هر قدر که به معنای حقیقی کاملتر میشوند، فقر و نیازمندی خود را به خداوند بیشتر درک می - کنند

۲- با توجه به معارف اسلامی شناخت هستی و چیستی خدا به ترتیب موصوف به و است.

(۱) ممکن - ناممکن (۲) ناممکن - ممکن (۳) ممکن - ممکن (۴) ناممکن - ناممکن

۳- کدام رابطه می تواند میان بندگی و خودشناسی و فقر و نیازمندی ما به خداوند، برقرار باشد؟ (منبع ایران عرضه)

(۱) افزایش بندگی ➡ افزایش خودشناسی ➡ درک بیشتر فقر و نیاز

(۲) افزایش بندگی ➡ درک بیشتر فقر و نیاز ➡ افزایش خودشناسی

(۳) افزایش خودشناسی ➡ درک بیشتر فقر و نیاز ➡ افزایش بندگی

(۴) درک بیشتر فقر و نیاز ➡ افزایش بندگی ➡ افزایش خودشناسی

۴- مانند روحی در پیکره ی معارف و احکام دین حضور دارد.

(۱) توحید (۲) معاد (۳) نبوت (۴) عدل

۵- اگر معتقد باشیم خدا تنها مبدأ جهان است و در آفرینش شریک و همتایی ندارد یعنی توحید در

(۱) ربوبیت (۲) خالقیت (۳) ولایت (۴) مالکیت

۶- سخن قرآن کریم درباره کسی که هوای نفس را معبود خود بگیرد، کدام است؟

(۱) آیا به آنچه از حق آمده کفر می ورزند؟ (۲) آیا تو می توانی ضامن او باشی؟

(۳) همانا آنان در خسران آشکار هستند. (۴) همانا اینان در دنیا و آخرت زیان کار هستند.

۷- تحقق بعد اجتماعی توحید عملی مرهون است.

(۱) قبول توحید در خالقیت (۲) تشکیل نظام الهی

(۳) بعد فردی (۴) نفی ظلم

۸- کدام گزینه به معنای یگانه شدن برای خداست؟

(۱) توحید در خالقیت (۲) عمل صالح (۳) توحید نظری (۴) اخلاص در بندگی

۹- در اصول دین تقلید چه حکمی دارد؟

(۱) کراهت دارد.

(۲) جایز نیست.

(۳) در صورتی که یقین پیدا نکرده باشید واجب است.

(۴) واجب است اما کسی مجتهد باشد، نباید تقلید کند.

۱۰- کدام جمله دلالت بر توحید در جهان بینی اسلامی ندارد؟

(۱) در همه منطقه وجود یک قدرت به نام خدا است.

(۲) تمام پدیده ها رو به آن قدرت عظیم با حال مسکنت قرار دارند.

(۳) در مواجهه همه موجودات با خداوند متعال فرقی از جهت عبودیت در مقابل آن مرکز قدرت نیست.

(۴) بین موجودات در مواجهه با خداوند متعال بر حسب خلقت آنها تفاوت است.



❖ فصل سوم: سوالات زبان و ادبیات فارسی

۱- کدام مجموعه از ترکیب ها «اضافه تشبیهی» است؟

(۱) مزید نعمت - شرط انصاف - مرغ سحر - کلاه شکوفه

(۲) جیب مراقبت - امید اجابت - دیوار امت - قصه عشق

(۳) پرده ناموس - کلاه شکوفه - سرور کائنات - درگاه خداوند

(۴) دریای معرفت - شب جهل - شکوفه اشک - آتش عشق

❑ پاسخ سایت ایران عرضه: گزینه ۴ در (اضافه ی تشبیهی)، مضاف و مضاف الیه در ظاهر اضافه اند ولی در معنا تشبیه

وجود دارد. مثلاً (دریای معرفت) یعنی شخصی که در معرفت، مانند دریاست در همه ی این ترکیب ها رابطه ی تملک یا وصفی نیست، بلکه نوعی تشبیه پنهان وجود دارد.

دریای معرفت (تشبیهی؛ معرفت مثل دریاست)

شب جهل (تشبیهی؛ جهل مانند شب است)

شکوفه اشک (تشبیهی؛ اشک مانند شکوفه است)

آتش عشق (تشبیهی؛ عشق مانند آتش است)

۲- در کدام گزینه «کنایه» به کار رفته است؟ (iranarze)

(۱) بزد تیر بر چشم اسفندیار/سیه شد جهان پیش آن نامدار

(۲) تهمتن گز اندر کمان راند زود/بر آن سان که سیمرغ فرموده بود

(۳) تو را گر همی یار باید بیار/مرا یار هرگز نیاید به کار

(۴) بفرمود تا زین بر اسب سیاه/نهادند و بردند نزدیک شاه

۳- «عدّت» به چه معناست؟

(۱) ارزیابی کردن (۲) فرصت دادن (۳) جنگ و دعوا (۴) ساز و برگ

۴- کدام گزینه ترکیب وصفی است؟

(۱) دست اجل (۲) دست خالی (۳) دست ادب (۴) دست دوست

۵- مفهوم کلی این بیت با کدام بیت تناسب دارد؟

«موی سپید را فلکم رایگان نداد/ این رشته را به نقد جوانی خریده ام»

(۱) چگونه پیر جوانی و جاهلی نکند / در این قضیه که گردد جهان پیر، جوان

(۲) برف پیری می نشیند بر سوم / همچنان طبعم جوانی می کند

(۳) قدح پر کن که من از دولت عشق / جوان بخت جهانم گرچه پیرم

(۴) سال ها با بار پیری خم شدم در جست و جویش / تا به چاه گور هم رفتم نشد پیدا جوانی

۶- در کدام گزینه نام اثری منسوب به «محمد تقی بهار» آمده است؟

(۱) ایده آل (۲) گنجینه نشاط

(۳) تاریخ تطور شعر فارسی (۴) خداوند نامه

۷- مهم ترین قالب نثر دوره معاصر کدام است؟ - ناشر ایران عرضه -

(۱) نثر داستانی (۲) ادبیات نمایشی (۳) سفرنامه (۴) مقاله

۸- در متن کدام آرایه به کار نرفته است؟

«طاووس این بهارم، ساغر کش خمارم در راه انتظارم صدچشم و یک پریدن»

(۱) سجع (۲) تلمیح (۳) تشبیه (۴) تضمین

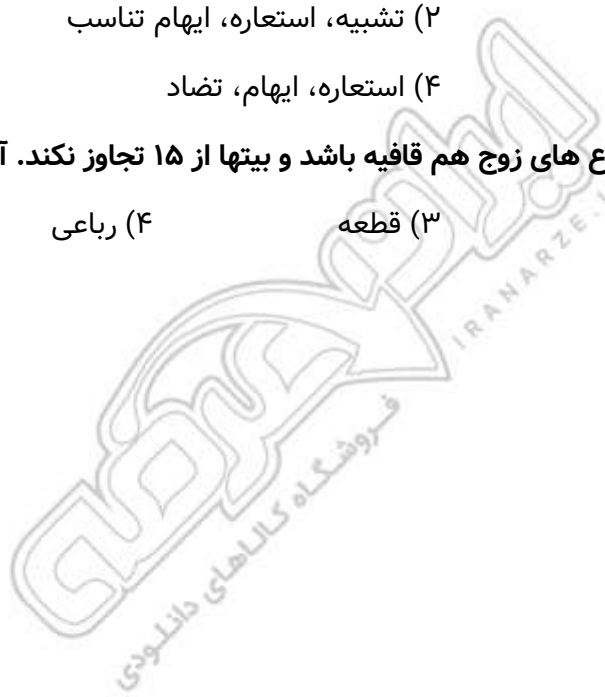
۹- آرایه های بیت زیر کدامند؟ «سوزن ز تیر مژگان و ز تار زلف نخ کن/ هر چند رخنه دل تاب رفو ندارد»

(۱) استعاره، پارادوکس، مجاز (۲) تشبیه، استعاره، ایهام تناسب

(۳) تشبیه، مراعات نظیر، تضاد (۴) استعاره، ایهام، تضاد

۱۰- وقتی مصراع اول شعری با مصراع های زوج هم قافیه باشد و بیتها از ۱۵ تجاوز نکند. آن قالب را قالب می گویند.

(۱) غزل (۲) قصیده (۳) قطعه (۴) رباعی



❖ فصل چهارم: سوالات فناوری اطلاعات

۱- اگر بخواهیم در نرم افزار اکسل، در یک سلول پس از ثبت بخشی از اطلاعات، به ابتدای سطر بعد رفته و همچنان در همان

سلول اطلاعات جدید را درج کنیم، از چه کلیدهایی به جای Enter استفاده میکنیم؟

(۱) Alt+Enter (۲) Shift+Enter (۳) Tab+Enter (۴) امکان پذیر نمی باشد.

❑ پاسخ سایت ایران عرضه: گزینه ۱ Alt+Enter : این ترکیب کلید یک خط جدید (Line Break) در داخل همان سلول ایجاد

می کند و به شما اجازه می دهد در همان سلول به خط بعدی بروید و اطلاعات جدید وارد کنید.

تشریح سایر گزینه ها:

گزینه ۲: Shift+Enter: این ترکیب در اکسل معمولاً برای حرکت به سلول بالایی استفاده می شود و برای ایجاد خط جدید

در همان سلول کاربرد ندارد.

گزینه ۳: Tab+Enter: این ترکیب عملکرد خاصی در اکسل ندارد و برای این منظور استفاده نمی شود (Tab). به تنهایی برای

حرکت به سلول بعدی در سمت راست استفاده می شود.

۲- در نرم افزار پاورپوینت کدام گزینه برای مرور اسلایدها و یادداشت گذاری روی آنها استفاده می شود؟

(۱) Normal (۲) Outline view (۳) slide sorter (۴) notes page

۳- کدام یک از توابع زیر در نرم افزار اکسل، مربوط به شمارش سلول های عددی در محدوده انتخاب شده است؟

(۱) count (۲) counta (۳) countblank (۴) countif

۴- در ساختار یک آدرس پست الکترونیک، قبل از علامت @ چه بخشی قرار دارد؟ (منبع ایران عرضه)

(۱) آدرس شرکت سرویس دهنده پست الکترونیک

(۲) WWW

(۳) نام اختصاصی انتخاب شده توسط کاربر

(۴) Com

۵- کدام یک از ترکیب کلیدهای زیر، اولین کلمه بعد از مکان نما را در نرم افزار ورد پاک میکند؟

(۱) Ctrl+Shift+Del (۲) Ctrl+Shift+BackSpace

(۳) Ctrl+Del (۴) Ctrl +BackSpace

۶- ترکیب کلیدهای Ctrl+y یا Redo چه عملی را در نرم افزار ورد انجام میدهد؟

(۱) بازگرداندن آخرین عملیات لغو شده (۲) لغو آخرین عملیات انجام شده

(۳) Paste کردن اطلاعات کپی گرفته شده (۴) کپی گرفتن از بخش انتخاب شده متن

۷- اگر در نرم افزار ورد بخواهیم دو بخش یک جدول را از هم جدا کرده و دو جدول مجزا از آن درست کنیم، از کدام گزینه

زیر استفاده میشود؟

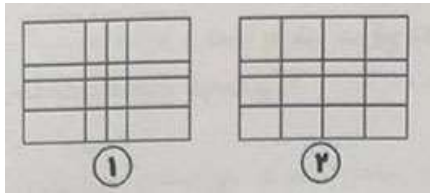
insert below (۴)

Split Cells (۳)

Merge Cells (۲)

Split Table (۱)

۸- وقتی جدولی مانند شکل شماره ۱ در نرم افزار ورد رسم کرده ایم با کدام یک از گزینه های زیر این جدول به صورت جدول شماره ۲ تغییر خواهد کرد؟



Auto Fit (۱)

Row Height (۲)

distribute columns (۳)

Fixed column Width (۴)

۹- کدام گزینه سیستم عامل نیست؟

Oracle (۴)

Windows (۳)

Unix (۲)

Linux (۱)

۱۰- CPU از چه بخش هایی تشکیل شده است؟ (۱ ایران عرضه)

(۲) ALU و واحد کنترل

(۱) ALU و حافظه پنهان

(۴) حافظه ثانویه

(۳) حافظه RAM و ROM

ایران عرضه
فروشگاه کالاهای دانشجویی
IRANARZE-IR

❖ فصل پنجم: سوالات قوانین و مقررات اداری و قانون اساسی

۱- مسئولی است که از لحاظ سلسله مراتب سازمانی به طور مستقیم مسئولیت سرپرستی و ارجاع کار به ارزشیابی شونده را دارد و از وی گزارش دریافت می کند.

(۱) ارزشیابی کننده (۲) مدیر بلافصل (۳) تایید کننده (۴) گزینه ۱ و ۲

❑ پاسخ سایت ایران عرضه: گزینه ۴ ➤ ارزشیابی کننده یا مدیر بلافصل، مسئولی است که از لحاظ سلسله مراتب سازمانی به طور مستقیم مسئولیت سرپرستی و ارجاع کار به ارزشیابی شونده را دارد و از وی گزارش دریافت میکند.

طبق ماده ۹۲ قانون مدیریت خدمات کشوری، مدیران و سرپرستان بلافصل یا ارزشیابی کننده، مسئول نظارت، کنترل و حفظ روابط سالم کارکنان خود در انجام وظایف محوله می باشند و در مورد عملکرد آنان باید پاسخگو باشند. در صورتی که کارکنان مزبور با اقدامات خود موجب ضرر و زیان دولت گردند و یا تخلفاتی نظیر رشوه یا سوءاستفاده در حیطه مدیریت مسئولین مزبور مشاهده و اثبات گردد، علاوه بر برخورد با کارکنان خاطی، با مدیران و سرپرستان کارکنان (حسب مورد) نیز که در کشف تخلف یا جرایم اهمال نموده باشند، مطابق قوانین مربوط با آنان رفتار خواهد شد.

تشریح سایر گزینه ها:

تایید کننده: مدیری است که از لحاظ سطح سازمانی بالاتر از ارزشیابی کننده قرار دارد.

۲- کارمندی که به صورت غیر منظم و بر حسب نوبت به صورت کشیک یا عناوین مشابه آن در هر یک از حالت زمانی عهده دار انجام مسئولیت های محوله باشند (تالیف سایت ایران عرضه)

(۱) مشمول پرداخت فوق العاده نوبت کاری نیستند.

(۲) با رعایت مقررات مربوط از فوق العاده اضافه کار ساعتی برخوردار خواهد بود.

(۳) مشمول پرداخت فوق العاده نوبت کاری می شوند.

(۴) موارد ۱ و ۲

۳- کارمندان دستگاه های اجرائی می توانند در طول مدت خدمت خود با موافقت دستگاه ذیربط حداکثر از مرخصی بدون حقوق استفاده نمایند و اگر مرخصی برای ادامه تحصیلات عالی باشد تا قابل افزایش خواهد بود.

(۱) دو سال - یک سال (۲) یک سال - دو سال

(۳) یک سال - یک سال (۴) سه سال - دو سال

۴- کدام گزینه غلط است؟

(۱) پرداخت اضافه کاری بدون انجام کار اضافی به نظر مدیر سازمان بستگی ندارد.

(۲) پرداخت اضافه کاری تنها در قبال انجام کار اضافی در ساعات اداری مجاز می باشد.

(۳) پرداخت اضافه کاری بدون انجام کار اضافی و جاهت قانونی ندارد.

(۴) پرداخت اضافه کاری بدون انجام کار اضافی در حکم تصرف غیر قانونی وجوه و اموال عمومی است.

۵- کدام گزینه صحیح می باشد؟

- (۱) در به کارگیری و جذب نیروی انسانی جدید و مورد نیاز توسط واحد مجری، اولویت با نیروی انسانی جدید است.
- (۲) کاهش قانونی حقوق و مزایای کارکنان واحد مجری در دوره اجرای تفاهم نامه، به عنوان تعهدات دستگاه در تفاهم نامه منظور و توسط دستگاه اجرایی تأمین می شود.
- (۳) هزینه های ناشی از انعقاد تفاهم نامه نباید از مجموع اعتبارات هزینه هایی که در بودجه مصوب سالانه پیش بینی شده، تجاوز کند.
- (۴) موارد ۱ و ۲

۶- چه میزان مرخصی با حقوق سالانه کارمندان در دستگاه های اجرائی در طول سال قابل ذخیره کردن است؟

- (۱) ۲۰ روز (۲) نصف مرخصی ها (۳) کل مرخصی ها (۴) ۱۰ روز

۷- حداقل چند ماه پیش از پایان اعتبار گواهینامه متقاضیان تمدید گواهینامه صلاحیت خدمات مشاوره مدیریتی باید درصدد تمدید آن برآیند؟

- (۱) دو ماه پس از انقضای اعتبار گواهینامه (۲) حداقل ۱ ماه پیش از پایان اعتبار گواهینامه
- (۳) حداقل ۲ ماه پیش از پایان اعتبار گواهینامه (۴) یک ماه پس از انقضای اعتبار گواهینامه
- ۸- پیشنهاد بازنگری و بهبود دستورالعمل از وظایف است.

- (۱) وزارتخانه

- (۲) معاون نوسازی اداری

- (۳) رئیس امور مدیریت عملکرد و ارتقای فرهنگ سازمانی

- (۴) کمیته تشخیص صلاحیت

۹- در اجرای ماده ۲ آیین نامه اجرایی ماده ۲۰ قانون مدیریت خدمات کشوری هر نوع نظر، فکر و راهکاری که بتواند وضعیت موجود را آسان تر، سریع تر، صحیح تر، ارزان تر، ایمن تر و مطلوب تر کند، نام دارد.

- (۱) بهره وری (۲) پیشنهاد (۳) رویکرد (۴) آیین نامه

۱۰- تامین خدمات عمومی و تخصصی مورد نیاز دستگاه اجرایی با استفاده از ظرفیت بخش خصوصی و تعاونی نام دارد.

- (۱) خرید خدمات (۲) خدمت دهنده (۳) قیمت خدمات (۴) تعیین قیمت

❖ فصل ششم: سوالات اطلاعات عمومی و دانش اجتماعی

۱- پدر علم جامعه شناسی چه کسی است؟

- (۱) کارل مارکس (۲) آگوست کنت (۳) امیل دور کیم (۴) ماکس وبر

❑ پاسخ سایت ایران عرضه: گزینه ۲ ➡ آگوست کنت (Auguste Comte) به عنوان پدر علم جامعه شناسی شناخته میشود، زیرا او برای اولین بار در قرن نوزدهم این رشته را به عنوان یک علم نظام مند و مستقل تعریف کرد و اصطلاح جامعه شناسی (Sociology) را به کار برد. کنت که بین سال های ۱۷۹۸ تا ۱۸۵۷ زندگی میکرد، فیلسوف و نظریه پرداز فرانسوی بود و نقش کلیدی در پایه گذاری مکتب پوزیتیویسم (اثبات گرایی) داشت. او معتقد بود که جامعه انسانی میتواند با استفاده از روش های علمی، مشابه علوم طبیعی، مورد مطالعه قرار گیرد. اگرچه مارکس، دورکیم و وبر هر یک کمک های عظیمی به جامعه شناسی کردند، اما کنت به دلیل معرفی مفهوم جامعه شناسی و تلاش برای تبدیل آن به یک علم نظام مند، به عنوان پدر این رشته شناخته میشود. او چارچوبی نظری و روش شناختی ارائه داد که بعدها توسط دورکیم، وبر و دیگران تکمیل شد.

۲- قرارداد گلستان در زمان کدام پادشاهان قاجار امضا شد؟

- (۱) آقامحمدخان (۲) ناصرالدین شاه (۳) فتحعلی شاه (۴) مظفرالدین شاه

۳- اصل تفکیک قوا در کدام اصل قانون اساسی ذکر شده است؟ (منبع ایران عرضه)

- (۱) ۶۰ (۲) ۵۷ (۳) ۱۱۰ (۴) ۹

۴- اصل ۴۴ قانون اساسی به کدام یک از موضوعات زیر اشاره دارد؟

- (۱) حقوق مردم (۲) اقتصاد (۳) آزادی مطبوعات (۴) آموزش و پرورش

۵- عملیات ثامن الائمه در سال با هدف انجام شد و عملیات با هدف آزاد سازی خرمشهر انجام شد.

- (۱) ۱۳۶۲ - آزادسازی سوسنگرد - بیت المقدس (۲) ۱۳۶۱ - شکست حصر آبادان - فتح المبین
(۳) ۱۳۶۳ - فتح فاو - فتح المبین (۴) ۱۳۶۰ - شکست حصر آبادان - بیت المقدس

۶- کدام کارگردان ایران اولین جایزه نخل طلایی کن را دریافت کرده است؟

- (۱) عباس کیارستمی (۲) اصغر فرهادی (۳) جعفر پناهی (۴) داریوش مهرجویی

۷- مصرف برای کاهش پوکی استخوان ضروری تر از بقیه است.

- (۱) فسفر (۲) کلسیم (۳) آهن (۴) پتاسیم

۸- کدام کشور عضو اتحادیه اروپا نمیشد؟

- (۱) قبرس (۲) لتونی (۳) مالت (۴) بریتانیا

۹- «در جمهوری اسلامی ایران آزادی و استقلال و وحدت و تمامیت ارضی کشور از یکدیگر تفکیک ناپذیرند»، مربوط به کدام اصل قانون اساسی است؟

- (۱) اصل ششم (۲) اصل هشتم (۳) اصل یازدهم (۴) اصل نهم

۱۰- مصوبات شورای عالی امنیت ملی به تایید کدام نهاد یا مقام می رسد؟

(۲) مجلس شورای اسلامی

(۱) شورای نگهبان

(۴) رئیس جمهور

(۳) مقام معظم رهبری



❖ فصل هفتم: سوالات ریاضی و آمار مقدماتی

۱- مجموع دو عدد ۴۰ و کوچکترین مضرب مشترک آنها ۸۴ است. آن دو عدد کدام هستند؟

- (۱) ۸ و ۳۲ (۲) ۲۸ و ۱۲ (۳) ۱۸ و ۲۲ (۴) ۱۲ و ۲۶

❑ پاسخ سایت ایران عرضه: گزینه ۲ ⇐ ابتدا عدد ۸۴ را تجزیه میکنیم تا عوامل سازنده آن مشخص شوند که این عوامل شامل ۲، ۳ و ۷ میباشد. برای یک راه حل ساده میتوانیم به بررسی تک تک گزینه ها بپردازیم. به عنوان مثال در گزینه ۴ میتوان دید که مجموع اعداد اصلا ۴۰ نمیشود. در ارتباط با گزینه های ۱ و ۳ میتوان دید که هیچکدام از اعداد موجود در گزینه ها مضرب ۷ نمیشوند. پس تنها گزینه ممکن گزینه ۲ میباشد.

۲- اگر A مجموعه اعداد زوج و B مجموعه مضرب های یک رقمی عدد ۴ باشد، $A \cup B$ از A چند عضو بیشتر دارد؟

- (۱) ۳ (۲) ۲ (۳) ۱ (۴) صفر

۳- خارج قسمت $x^2 - 5x + 6$ در تقسیم بر $x - 3$ کدام است؟ (منبع ایران عرضه)

- (۱) $x - 2$ (۲) $x + 2$ (۳) $x + 3$ (۴) $x - 1$

۴- اگر $x^2 + y^2 = 2xy$ باشد، حاصل $\frac{x^2+y^2}{3x^2-y^2}$ چقدر است؟

- (۱) ۲ (۲) ۳ (۳) ۱ (۴) ۴

۵- طول اضلاع مثلثی a، $a+1$ و $a+2$ است. به ازای چه مقدار a، مثلث قائم الزاویه است؟

- (۱) ۱ (۲) ۳ (۳) ۴ (۴) ۳ و ۴

۶- تابع $y = x^5 - 3x + 1$ چند نقطه عطف دارد؟

- (۱) یک نقطه (۲) دو نقطه (۳) سه نقطه (۴) ندارد

۷- فاصله نقطه $B(2,5)$ از مبدا مختصات و همچنین از نقطه A واقع بر محور طول ها به یک اندازه میباشد. طول نقطه A کدام است؟

- (۱) ۲ (۲) ۳ (۳) ۴ (۴) ۵

۸- با توجه به مشاهدات «۹ - ۹ - ۲ - ۲ - ۷ - ۷ - ۱۹ - ۲۰» نما کدام است؟

- (۱) ۲ (۲) ۲ و ۹ (۳) ۵/۸ (۴) ۲۰

۹- در یک فضای نمونه، اگر احتمال وقوع A برابر $\frac{3}{10}$ و احتمال B برابر $\frac{4}{10}$ و احتمال اشتراک آنها $\frac{1}{10}$ باشد، احتمال اجتماع آنها چند است؟

- (۱) $\frac{7}{10}$ (۲) $\frac{6}{10}$ (۳) $\frac{8}{10}$ (۴) $\frac{5}{10}$

۱۰- در نظریه مجموعه ها اگر $n(A) = 4$ و $n(B) = 5$ و $n(A \cap B) = 2$ ، آنگاه $n(A \cup B)$ ؟

- (۱) ۷ (۲) ۶ (۳) ۸ (۴) ۹

❖ فصل هشتم: سوالات زبان انگلیسی عمومی

1- Motors pass so that we often don't see them.

- 1) carefully 2) quickly 3) secretly 4) clearly

۱- موتورها چنان رد شدند که ما آن ها را ندیدیم.

- (۱) با احتیاط (۲) سریع (۳) به صورت مخفیانه (۴) به صورت واضح

❑ پاسخ سایت ایران عرضه: گزینه ۲ ← با توجه به ترجمه سوال گزینه ۲ به معنی "سریع" پاسخ صحیح می باشد.

2- It is possible for a microscope..... one or more lenses. (source: iran arze website)

- 1) to have 2) have 3) that has 4) has

3- The proved her theory that the chemical was harmless to plants.

- 1) explanation 2) experiments 3) exception 4) exhibition

4- If she hadn't lost her ticket, she..... so upset now.

- 1) won't be 2) wasn't 3) hadn't been 4) wouldn't be

5- The bookstore has a wide..... of books, fiction and non-fiction.

- 1) portion 2) chain 3) choice 4) range

6- Deep freezing is a common way of..... fruit and vegetables.

- 1) preserving 2) defending 3) producing 4) growing

7- How much coffee did you get? "I didn't get coffee".

- 1) no 2) few 3) some 4) any

8- My computer..... be old, but it still works really well.

- 1) can 2) could 3) may 4) would

9- Which term means "the risk that a borrow will not repay a loan"?

- 1) Credit risk 2) Market risk
3) Operational 4) Systemic risk

10- According to Central bank guidelines, which measure is mandatory for supporting vulnerable clients?

- 1) Waiving all types of collateral for low-income clients
2) Opening new branches in every rural community
3) Issuing loans without any formal credit assessment
4) Identifying clients using pre-approve social indicators

❖ فصل نهم: سوالات تفکر تحلیلی سیستمی کیفی تالیف ایران عرضه

۱- تعریف مدیریت از نظر پال هرسی و کنت بلانچارد چیست؟

(۱) کار کردن با افراد و به وسیله افراد و گروه ها برای تحقق اهداف

(۲) کار کردن گروهی از افراد با یکدیگر

(۳) همکاری گروهی از افراد برای رسیدن به سود مشترک

(۴) مشارکت گروهی از افراد در سود و زیان با سهم مشترک

❑ پاسخ سایت ایران عرضه: گزینه ۱ ➡ تعریف مدیریت از نظر پال هرسی و کنت بلانچارد: کار کردن با افراد و به وسیله افراد و گروه ها برای تحقق اهداف.

۲- مهمترین منبع برای توسعه کشور... است.

(۱) مدیریت اصولی (۲) اهداف سازمانی (۳) ارزش بازار (۴) همه موارد

۳- جمله مدیریت فعالیتی است منظم و در جهت تحقق هدف هایی که از طریق ایجاد روابط میان منابع موجود و انجام دادن کار با مشارکت افراد دیگر و شرکت های فعال صورت می گیرد از کیست؟

(۱) پال هرسی (۲) کنت بلانچارد (۳) کلاندوکینگ (۴) ۱ و ۲

۴- تعداد سطوح مدیریت در یک شرکت خاص به چه چیزی بستگی دارد؟ (منبع ایران عرضه)

(۱) اندازه و بزرگی آن (۲) ارزش بازار

(۳) میزان ترن اوری کاری (۴) ۱ و ۲

۵- مدیریت در سازمان های بزرگ معمولاً چند سطح دارد؟

(۱) ۲ (۲) ۳ (۳) ۴ (۴) ۵

۶- مسئول اداره کل یک سازمان هستند و سیاست های کلی سازمان اهداف بلند مدت و برنامه های راهبردی آن را تنظیم می کند.

(۱) مدیران عالی (۲) مدیران میانی (۳) مدیران رده پایین (۴) مدیران عملیاتی

۷- مسئولیت بررسی و ایجاد هماهنگی با محیط های خارجی و دیگر سازمان ها بر عهده کیست؟

(۱) مدیران عالی (۲) مدیران میانی (۳) مدیران رده پایین (۴) مدیران عملیاتی

۸- کدام مدیران قلب تپنده سازمان هستند و می توانند با نحوه عملکرد خود شادابی و نشاط را برای سازمان به همراه بیاورند؟

(۱) مدیران عالی (۲) مدیران میانی (۳) مدیران رده پایین (۴) مدیران عملیاتی

۹- وظیفه اصلی کدام مدیران دریافت خط مشی سازمان در راهبردهای لازم از مدیران عملیاتی است که آنان را به هدف های کوتاه مدت و برنامه های عملیاتی تبدیل می کنند؟

(۱) مدیران عالی (۲) مدیران میانی (۳) مدیران رده پایین (۴) مدیران عملیاتی

۱۰- چه کسانی مدیر سرپرستان و مدیران عملیاتی هستند؟

۱) مدیران عالی ۲) مدیران میانی ۳) مدیران رده پایین ۴) مدیران عملیاتی



❖ فصل دهم: اصل سوالات آزمون استخدامی بانک ملت آبان ۱۴۰۳

◀ معارف اسلامی

۱- کدام صفت الهی است که ارتباطی با توحید افعالی ندارد؟

- (۱) رزاق (۲) فاطر (۳) حی (۴) قیوم

❑ پاسخ سایت ایران عرضه: گزینه ۳ ➡ با توجه به مفاهیم توحید افعالی، این نوع توحید به این معناست که همه افعال و تأثیرات درعالم، نهایتاً به خداوند بازمی گردد و هیچ موجودی به صورت مستقل فاعل نیست؛ بلکه همه در فاعلیت خود وابسته به خدا هستند. صفاتی مانند «رزاق» روزی دهنده، «فاطر» آفریننده، و «قیوم» برپادارنده. همگی به نوعی به افعال الهی مربوط هستند و نشان دهنده این هستند که خداوند خالق، روزی دهنده و تدبیرکننده جهان است و هیچ موجودی به طور مستقل این افعال را انجام نمی دهد؛ بلکه همه این کارها در نهایت فعل خداوند است. اما صفت «حی» به معنای زنده بودن خداوند است و به ذات الهی اشاره دارد، نه به افعال او. حیات، از صفات ذاتی خداوند است و ارتباطی با توحید افعالی (یگانگی در افعال) ندارد، بلکه به توحید ذاتی و صفاتی مربوط می شود. زیرا صفت «حی» (زنده بودن) به ذات خداوند و کمال وجودی او اشاره دارد و ارتباطی با توحید افعالی (یگانگی خدا در افعال و تأثیرات) ندارد، در حالی که سایر صفات مطرح شده (رزاق، فاطر، قیوم) همگی به افعال الهی و توحید افعالی مرتبط هستند.

۲- نماز در همه ادیان ... بوده است. ایران عرضه

- (۱) واجب (۲) مستحب (۳) دارای جایگاه واحدی (۴) مورد توجه

◀ زبان انگلیسی

Part A: Grammer

Direction: choose the words or phrases (1), (2), (3) or (4) that best completes each sentence then mark the correct choice on your answer sheet.

راهنما: کلمات یا عبارات (۱)، (۲)، (۳) یا (۴) را انتخاب کنید که هر جمله را به بهترین شکل کامل می کند، سپس گزینه صحیح را در برگه پاسخ خود علامت بزنید.

3- The sky is very cloudy. It ... to rain tonight.

- 1) is going 2) will go 3) goes 4) would go

4- Their dog is a shepherd. (source: iran arze website)

- 1) brown big German 2) big brown German
3) German big brown 4) brown German big

5- Ali is ... Mehdi. They are both 27 years old.

- 1) older than 2) as old as 3) the oldest 4) more old than

Part B: Vocabulary

Directions: Question 12 – 13 are incomplete sentences. Beneath each sentence you will see four words or phrase. Markes (1, 2, 3 and 4)

Choose the one word or phrase that best completes the sentence, then mark the correct choice on your answer sheet.

6- Today people's has changed. They prefer fast food to homemade dishes.

- 1) Skill 2) Swimming 3) Smoking 4) depression

7- My teacher's voice was full of ... when he talked about war.

- 1) emotions 2) taste 3) feeling 4) art

◀ ادبیات فارسی و آئین نگارش

۸- بیت "غنچه هم گفت گرچه دلتنگم مثل لبخند باز خواهم شد" چند جمله دارد؟

- ۱) ۲ ۲) ۳ ۳) ۴ ۴) ۵

۹- در همه گزینه ها جز گزینه ... فعل به قرینه لفظی حذف شده است.

- | | |
|--|---------------------------------|
| ۱) ای خرم از فروغ رخت لاله زار عمر | ۲) من به نظر قطره، به معنی یمم |
| ۳) برخیز که جان است و جهان است و جوانی | ۴) تاب من از تاب تو افزونتر است |
| ۱) (۱ و ۲) | ۲) (۲ و ۴) |
| ۳) (۳ و ۱) | ۴) (۴ و ۳) |

۱۰- در کدام گزینه صفت بیانی نقش قیدی ندارد؟

- | | |
|-------------------------------------|------------------------------------|
| ۱) هر که پرهیز و زهد و علم فروخت | ۲) شب و روز در شام و در بامداد |
| ۳) فرات تشنه می رود ز سوگ تشنگان ما | ۴) چون جوان بودی و زفت و سخت زه |
| ۱) خرمی گرد کرد و پاک بسوخت | ۲) تو بر یادی از هر چه دارم به یاد |
| ۳) به موج موج دارد او ترنه بهار را | ۴) تو نمی رفتی سوی صف بی زره |

۱۱- همه گزینه ها جز گزینه ... از جهتی هم گونی دارند.

- ۱) بلند قد ۲) بلند رخت ۳) بلند گیسو ۴) بلند گهر

۱۲- کدام یک از صفات مشتق زیر از بن ماضی ساخته شده است؟ (متعلق به سایت ایران عرضه)

(۱) پرستار (۲) کردار (۳) گرفتار (۴) ساختمان

۱۳- اسم مصدر "می درخشد" چیست؟

(۱) درخشش (۲) درخشان (۳) درخشندگی (۴) درخش

۱۴- نویسنده داستان کوتاه "فارسی شکر است" کیست؟

(۱) محمد علی جمال زاده (۲) جلال آل احمد

(۳) سیمین دانشور (۴) صادق هدایت

۱۵- معرفی و نام آفریننده کدام اثر درست نیست؟

(۱) لباب الالباب: محمد عوفی (۲) کارنامه بلخ: سنایی غزنوی

(۳) لیلی و مجنون: نظامی گنجوی (۴) هشت کتاب: جلال آل احمد

اطلاعات عمومی

۱۶- رتبه نفت و گاز ایران در جهان چیست؟

(۱) دوم - اول (۲) اول - دوم (۳) دوم - سوم (۴) سوم - دوم

۱۷- قلب دارای چند دریچه می باشد؟

(۱) ۴ (۲) ۲ (۳) ۶ (۴) ۵

۱۸- جزیره ای ایرانی که در دریای عمان وجود دارد، کدام است؟

(۱) خارک (۲) لاوان (۳) شیطان (۴) هنگام

هوش و استعداد

۱۹- مقدار x در $3\sqrt{3\sqrt{3}} = 27^x$ کدام است؟

(۱) $\frac{7}{16}$ (۲) $\frac{7}{24}$ (۳) $\frac{8}{14}$ (۴) $\frac{8}{21}$

۲۰- اگر ضلع مربی ۱۰ درصد افزایش پیدا کند. مساحت مربع چند درصد افزایش پیدا میکند؟

(۱) ۲۱ درصد (۲) ۲۰ درصد (۳) ۱۸ درصد (۴) ۱۵ درصد

۲۱- سه روز پیش از فردا چهارشنبه است. سه روز پس از دیروز، چند شنبه خواهد بود؟

(۱) جمعه (۲) شنبه (۳) دوشنبه (۴) سه شنبه

۲۲- اگر با مکعبی به اضلاع واحد، مکعب بزرگتری به ضلع ۵ واحد بسازیم و سطح مکعب بزرگتر را رنگ کنیم، چه تعداد

مکعب دو وجه آنها رنگ میشود؟

(۱) ۸ (۲) ۱۶ (۳) ۳۶ (۴) ۱۲

$$\times (5 - 2) = 12 \times 3 = 36$$

۲۳- معادله زیر چند ریشه حقیقی دارد؟ (k یک عدد حقیقی است) (تهیه شده توسط ایران عرضه)

$$y = x^5 + x + k$$

- (۱) ۱ (۲) ۲ (۳) ۴ (۴)

۲۴- اگر $y = t^2 + 5$ و $x = 2t - 3$ باشد، حاصل dy/dx کدام گزینه می باشد؟

- t (۱) 2t (۲) ۲ (۳) ۴ (۴) ○

۲۵- اگر تعداد اعضای مجموعه ای دو واحد افزایش یابد، تعداد زیر مجموعه ها چند برابر می شود؟

- ۲ (۱) ۴ (۲) ۸ (۳) ۱۶ (۴)



❖ فصل یازدهم: سوالات عمومی ادوار گذشته آزمون های استخدامی بانک ها و

فراگیر دستگاه های اجرایی و سازمان های دولتی

◀ معارف اسلامی

۱- گرایشی که عموم تلاش های انسان را تحت تاثیر خود قرار می دهد، میل به است که پاسخ گوی آن.....

است و نشانی بر..... خداوند می باشد؟ (بانک تجارت)

(۱) کمالات بی نهایت - رستاخیز - عدل

(۲) بقا و جاودانگی - حکیمانه بودن خلقت - حکمت

(۳) کمالات بی نهایت - عادلانه بودن خلقت - عدل

(۴) بقا و جاودانگی - رستاخیز - حکمت

❑ پاسخ سایت ایران عرضه: گزینه ۲ ➡ با دقت در وجود آدمی میبینیم که خداوند انسان را به گونه ای آفریده که گرایش به بقا و جاودانگی دارد و از نابودی گریزان است. اما دنیا و عمر محدود انسان ها پاسخگوی این گونه خواسته ها نیست. در این صورت باید گفت خداوند گرایش به زندگی جاوید را در وجود انسان قرار داده است و سپس او را در حالی که مشتاق حیات ابدی است، نابود میکند آیا این کار با حکمت خداوند سازگار است. بنابر حکمت الهی؛ با وجود میل به جاودانگی و بقا و همچنین خواستن همه کمالات و زیبایی ها در انسان با توجه به عمر محدود انسان و شرایط دنیا؛ وجود معاد ضرورت دارد.

۲- «آگاهی انسان از طریق صورت ها و مفاهیم ذهنی» و «آگاهی انسان به قوای ادراکی خود» موصوف به کدام علم است؟

(بانک ملی) ایران عرضه

(۱) حضوری - حصولی

(۲) حصولی - حضوری

(۳) حصولی - حصولی

(۴) حضوری - حضوری

۳- صفاتی که از ارتباط ذات الهی با مخلوقات انتزاع می شوند چه نام دارد؟ (بانک ملی)

(۱) ذاتی- قدرت الهی (۲) فعلی- خالقیت (۳) ذاتی- خالقیت (۴) فعلی - قدرت الهی

۴- مفهوم آیه شریفه «فِطْرَةَ اللَّهِ الَّتِي فَطَرَ النَّاسَ عَلَيْهَا» به ترتیب با کدام مورد مطابقت معنایی دارد؟ و با کدام یک از ابعاد

روح انسان، موافقت دارد؟ (بانک ملی)

(۱) من خدایی را که نبینم، عبادت نمی کنم - ادراکی

(۲) خداوند، تو قلب را بر محبت خود آفریده ای- گرایشی

(۳) خداوند، تو قلب را بر محبت خود آفریده ای- ادراکی

(۴) من خدایی را که نبینم، عبادت نمی کنم- گرایشی

۵- کدام دسته از صفات خداوند صرفا با دخالت امری ثالث به اثبات می رسد؟ (بانک تجارت)

۱) ذات (۲) فعل (۳) سلبیه (۴) ثبوتیه

۶- نماز در همه ادیان بوده است (بانک تجارت)

۱) مستحب (۲) واجب (۳) دارای جایگاه واحد (۴) مورد توجه

۷- کدام سوره به قلب قرآن معروف است؟ (بانک تجارت)

۱) بقره (۲) توحید (۳) یاسین (۴) تکویر

۸- «استیفا» یعنی: (بانک صادرات)

۱) بازستدن به طور کامل (۲) بی نیازی

۳) چیرگی (۴) کناره گیری از کار

۹- از مفهوم بیت «برآمد ز سودای من سرخ روی کزین جنس بیهوده دیگر مگوی» همه گزینه ها، به جز گزینه دریافت

می شود. (بانک صادرات)

۱) خام اندیشی (۲) یاوه گویی (۳) شرمندگی (۴) برافروختگی

۱۰- کدام گزینه از لحاظ نگارش، درست است؟ (بانک صادرات)

۱) در فرهنگ ما شهادت یک حادثه خونین و ناگوار نیست.

۲) شهادت به حادثه خونین و ناگوار در فرهنگ ما نیست.

۳) در فرهنگ ما یک حادثه خونین و ناگوار شهادت نیست.

۴) شهادت در فرهنگ ما یک حادثه خونین و ناگوار نیست.

۱۱- مقدم شدن (ایاک) بر (نعبد) و (نستعین) چه نتیجه ای دارد؟ (فراگیر)

۱) توحید در ربوبیت (۲) توحید عبادت و افعالی

۳) عظمت عبادت خداوند (۴) فضیلت عبادت به جماعت

۱۲- کدام گزینه زیر نظر به محور اصلی نظام تربیتی جهان دارد؟ (فراگیر)

۱) هدایت الهی (۲) حاکمیت حق تعالی

۳) ربوبیت خداوند (۴) رحمت و رحمانیت خداوند

۱۳- کدام یک از گزینه های زیر به سه توحید اشاره دارد؟ (فراگیر)

توحید ذات، صفات و افعال

۱) ایاک نعبد (۲) ایاک نستعین

۳) الحمد لله رب العالمین (۴) مالک يوم الدين

۱۴- سرچشمه اصلی شرک و پایمال نمودن حقوق دیگران چیست؟ (فراگیر)

۱) تکبر (۲) حسد (۳) طمع (۴) غیبت

۱۵- در قرآن کریم از اتفاق با چه نامی تعبیر شده است؟ (فراگیر) {ایران عرصه}

(۱) صدقه (۲) قرض (۳) فء (۴) اضعاف

۱۶- وجوب نماز و روزه مربوط به کدام گزینه است؟ (فراگیر)

(۱) قدر تشریعی (۲) قضای تشریعی (۳) قضای تکوینی (۴) قدر تکوینی

۱۷- کدام بعد از فطرت را شعور باطنی مینمایند؟ (فراگیر)

(۱) بعد معرفت شناسانه (۲) بعد عاطفی و گرایشی

(۳) همه ابعاد فطری (۴) بعد وجودی و هستی شناسی

۱۸- در آیه کریمه (کل شیء هالک الا وجهه) مقصود مفسران از وجه الله کدام است؟ (فراگیر)

(۱) وجود الهی (۲) ذات الهی (۳) بقا و ابدیت (۴) فنا ناپذیری

۱۹- یکی از اسامی قیامت یوم الازفه به چه معناست؟ (فراگیر)

(۱) بسیار نزدیک (۲) جدایی حق از باطل (۳) جمع شدن (۴) خارج شدن از قبور

۲۰- کدام گزینه صحیح است؟ (فراگیر)

(۱) ذات الهی قابل شناخت است

(۲) صفات و اوصاف الهی شناخت نا پذیرند

(۳) خداشناسی از رهگذر اوصاف و افعال الهی برای انسان میسر است

(۴) آدمی از هر گونه معرفتی نسبت به خدا محروم است

زبان و ادبیات فارسی

۲۱- مفهوم نزدیکتر این شعر سهراب سپهری: «سنگ از پشت نمازم پیداست / همه ذرات نمازم متبلور شده است» در کدام

گزینه آمده است؟ (بانک صادرات)

(۱) به خوبی همه جا را می بینم؛ حتی زیبایی و لطافت را در سنگ می یابم.

(۲) خلوص نیت دارم و نمازم سرشار از لطافت و زیبایی است.

(۳) همه چیز را در آن می دانم و نماز موجب روشنی و بیداری دل من است.

(۴) در نمازم اخلاص می ورزم و نمازم سرشار از حق طلبی و بیداری است.

۲۲- در عبارت «سیاست کلی سلاجقه و امرای پیش از آنان بر حمایت از شعر و ادب فارسی استوار نبود و اگر آنها به ویژه از

دوره ی سنجره بعد برای جلب نظر شاعران و صاحب دلاں فراغتی هم به دست می آوردند به دلیل بیگانگی با فرهنگ و زبان

ایران، به این کار علاقه ای نشان نمی دادند. »

بعد از واژه های «آن ها» و «بعد» کدام علامت نگارشی مناسب است؟ (بانک صادرات)

(۱) کمانک (۲) ویرگول (۳) نقطه ویرگول (۴) خط فاصله

۲۳- کدام جمله از نظر نگارش غلط است؟ (بانک صادرات)

- (۱) پیامبر(ص) فرمودند
(۲) دلها با یاد خدا آرامش می بابند.
(۳) استاد از دانشمندان معروف هستند.
(۴) انسانهای پاک رستگار می شود.

۲۴- در کدام گروه واژه غلط املایی یافت می‌شود؟ (بانک ملی) (متعلق به سایت ایران عرضه)

- (۱) روضه و باغ- ضربه و زخمه- قسیم و صاحب جمال
(۲) مغان و موبدان- تعلل و تعویق- احوال و درنگ کردن
(۳) شیهه و آواز اسب- مستعجل و زودگذر- تلقی و تعبیر
(۴) حیثیت و آبرو- بطالت و کاهلی- حزین و غم انگیز

۲۵- ابیات زیر، یادآور کدام ضرب المثل است؟ (بانک ملی)

«چه خوش نازی است ناز خوب رویان ز دیده رانده را در دیده جویان

به چشمی طیرگی کردن که برخیز به دیگر چشم دل دادن که مگریز»

- (۱) با دست پس می‌زند با پا پیش می‌کشد
(۲) زر بر سر فولاد نهی نرم شود
(۳) با درد بساز تا به درمان برسی
(۴) این ره که تو می‌روی سراب است

۲۶- در متن زیر، کدام نشانه گذاری «نادرست» است؟ (بانک ملی)

عاقلی را پرسیدند: (نیکبخت کیست و بدبخت چیست؟) گفت «نیک بخت آن که خورد و کشت و بدبخت آن که مرد و هشت.»

- (۱) علامت سؤال (؟)
(۲) پرانتز ()
(۳) گیومه «»
(۴) دو نقطه (:))

۲۷- قالب شعری شاهنامه فردوسی چیست؟ (بانک تجارت)

- (۱) قطعه
(۲) قصیده
(۳) مثنوی
(۴) غزل

۲۸- در کدام کلمه یکی از دو حرف نزدیک به هم ، حذف شده است؟ (بانک تجارت)

- (۱) همگان
(۲) شب گیر
(۳) یکسان
(۴) یگانه

۲۹- کدام یک از نامه های زیر از نظر کاربرد با سایرین متفاوت میباشد؟ (بانک تجارت)

- (۱) نامه های وارده
(۲) نامه های رسیده
(۳) نامه های واصله
(۴) نامه های صادره

۳۰- «استیفا» یعنی: (بانک صادرات)

- (۱) بازستدن به طور کامل
(۲) بی نیازی
(۳) چیرگی
(۴) کناره گیری از کار

۳۱- مفهوم « گرایش انسان به زهد ریشه ای در آزادمنشی دارد» یعنی: (بانک صادرات)

- (۱) آزادگی بنیاد زهد است.
(۲) آزادمنشی نتیجه زهد است.
(۳) انسان از زهد به آزاد منشی می‌گراید.
(۴) زهد ریشه آزادی است.

۳۲- علامت گیومه در همه گزینه ها به جز گزینه درست به کار رفته است. (بانک صادرات)

(۱) اقبال از نوع شاعرانی است که «کواکبی» آنها را ستود

(۲) علامت «جات به عنوان» نشانه جمع در فارسی، پسندیده نیست

(۳) عنوان «وکالتنامه» بر بالای وسط صفحه نوشته می شود

(۴) و بار دیگر او را به «خودش» مؤمن سازد

۳۳- (یک سو) در بیت زیر به چه معناست؟ (پست بانک)

"به هستیش باید که خستو شوی / ز گفتار بیکار یکسو شوی"

(۱) برکنار (۲) شیوا (۳) متفق القول (۴) یک صدا

۳۴- ژاژ خواهی کنایه از چیست؟ (پست بانک)

(۱) غیبت (۲) بیهودگی (۳) فاش کردن اسرار (۴) راست گویی

۳۵- قالب شعری ابیات زیر چیست؟ (پست بانک)

"منشین با بدان که صبحت بد / گرچه پاکی ، تو را پلید کند

آفتابی به این بزرگی را / پاره ای ابر ناپدید می کند"

(۱) دوبیتی (۲) رباعی (۳) چهارپاره (۴) قطعه

۳۶- موضوع کتب سبک شناسی ملک الشعرای بهار کدام گزینه است؟ (پست بانک)

(۱) تطور نثر فارسی (۲) وزن شعری

(۳) بررسی سبک استان های فارسی (۴) تحول شعر فارسی

۳۷- "سرو غاتفر" نماد کدام صفت است؟ (پست بانک) (تهیه شده توسط ایران عرضه)

(۱) پایداری (۲) آزادگی (۳) تنهایی (۴) راستی و درستی

۳۸- فعلی که انجام دادن کاری در حال رخ دادن در زمان حال نشان می دهد کدام است؟ (پست بانک)

(۱) مضارع ملموس (۲) فعل مستقبل (۳) مضارع التزامی (۴) ماضی ملموس

۳۹- در جمله "زمین مر جبرئیل را سوگند داد"، "مر" از نظر دستوری کدام است؟ (پست بانک)

(۱) از ادات تاکید مفعول (۲) زائد

(۳) پیشوند (۴) حرف ربط

۴۰- کدام لغت به شکل صحیح معنی نشده است؟ (پست بانک)

(۱) صله: بخشش (۲) بدعت: رسم تازه

(۳) خستو: معترف (۴) حرمان: جدایی

اطلاعات عمومی و دانش اجتماعی

۴۱- رتبه نفت و گاز ایران در جهان چیست؟ (بانک ملت)

(۱) دوم - اول (۲) اول - دوم (۳) دوم - سوم (۴) سوم - دوم

۴۲- قلب دارای چند دریچه می باشد؟ (بانک ملت)

(۱) ۴ (۲) ۲ (۳) ۶ (۴) ۵

۴۳- جزیره ای ایرانی که در دریای عمان وجود دارد، کدام است؟ (بانک ملت)

(۱) خارک (۲) لاوان (۳) شیطان (۴) هنگام

۴۴- مرز بازرگان، بین ایران و کدام کشور است؟ (بانک ملی)

(۱) ترکیه (۲) آذربایجان (۳) عراق (۴) جمهوری نخجوان

۴۵- باغ شاهزاده ماهان، از جاذبه‌های گردشگری کدام استان است؟ (بانک ملی)

(۱) فارس (۲) کرمان (۳) اصفهان (۴) تهران

۴۶- اولین قانون برنامه توسعه اقتصادی اجتماعی ایران بعد از پیروزی انقلاب اسلامی در چه سالی به تصویب رسید؟ (بانک ملی)

(۱) ۱۳۶۹ (۲) ۱۳۵۸ (۳) ۱۳۵۹ (۴) ۱۳۶۸

۴۷- از نظر امام خمینی (ره)، وحدت واقعی نشانه کدام مورد زیر است؟ (بانک ملی) (ایران عرضه)

(۱) استقرار دین در جامعه (۲) صداقت اسلامی

(۳) عدل و عدالت اسلامی (۴) نفوذ دین در مردم

۴۸- به ترتیب، عملیات شکست حصر آبادان و رمز این عملیات در جنگ تحمیلی کدام است؟ (بانک ملی)

(۱) ثامن الائمه - نصر من و فتح قریب (۲) فتح المبین - یا زهرا

(۳) فتح المبین - نصر من الله و فتح قریب (۴) ثامن الائمه - یا زهرا

۴۹- انعقاد کدام عهدنامه بین ایران و روسیه، حق کشتیرانی در دریای خزر را در انحصار روسیه قرار داد؟ (بانک ملی)

(۱) ارزنة الروم (۲) گلستان (۳) ترکمنچای (۴) اخال

۵۰- علت اصلی انتقال ساختمان سنی از جوان به سالخورده، کدام است؟ (بانک ملی)

(۱) افزایش ناگهانی مرگ و میر (۲) استمرار مهاجرت

(۳) کاهش مستمر باروری (۴) افزایش معضلات اقتصادی

۵۱- کتاب شهریار، اثر کدام نویسنده زیر است؟ (بانک ملی)

(۱) ماکیاولی (۲) کریمی افشین (۳) بهجت تبریزی (۴) ارسطو

۵۲- بعد از افشاریان کدام سلسله بر ایران حکومت کردند؟ (فراگیر)

(۱) صفویان (۲) قاجاریان (۳) زندیان (۴) مرعشیان

۵۳- علامت اختصاری سازمان جهانی خواروبار کشاورزی چیست؟ (فراگیر)

(۱) FWO (۲) WTO (۳) FAO (۴) WHO

۵۴- مفهوم دو اصطلاح ((آنارشسیسم)) و ((لایک)) در کدام گزینه بیان شده است؟ (فراگیر)

(۱) تجدد گرایی - بدون دین و مذهب (۲) آزادی خواهی - جدایی دین از سیاست

(۳) نداشتن دین و حکومت - بدون دین و مذهب (۴) آزادی خواهی - تجدد گرایی

۵۵- تابلو نقاشی ((ضامن آهو)) از آثار کدام یک از اساتید زیر است؟ (فراگیر)

(۱) محمود فرشچیان (۲) صادق بیک افشار

(۳) کمال الملک (۴) حسین بهزاد

۵۶- کشور.....بعد از عراق بیشترین مرز خاکی با ایران دارد. (فراگیر)

(۱) پاکستان (۲) افغانستان (۳) آذربایجان (۴) ترکمنستان

۵۷- روز ۹ ذی الحجه مصادف با کدام یک از روزهای زیر است؟ (فراگیر)

(۱) عید قربان (۲) آغاز مناسک حج (۳) روز عرفه (۴) روز مباهله

۵۸- شرکت ملی نفت ایران، سازمان گسترش و نوسازی صنایع ایران، بانک مرکزی، بانک ها و بیمه های دولتی از کدام نوع

نهادهای زیر می باشند؟ (فراگیر) (تنظیم توسط فروشگاه ایران عرضه)

(۱) دستگاه های اجرایی (۲) شرکت های ملی

(۳) شرکت های خصوصی (۴) نهادهای عمومی غیر دولتی

۵۹- آیه شریفه «وَإِنْ يَكَادُ الَّذِينَ كَفَرُوا لَيُزْلِقُونَكَ بِأَبْصَارِهِمْ لَمَّا سَمِعُوا الذِّكْرَ وَ يَقُولُونَ إِنَّهُ لَمَجْنُونٌ وَ مَا هُوَ إِلَّا ذِكْرٌ لِلْعَالَمِينَ»

در کدام سوره قرآن وجود دارد؟

(۱) آل عمران (۲) طه (۳) بقره (۴) قلم

۶۰- ماه های حرام کدامند؟

(۱) محرم - رجب - ذیقعد - ذیحجه (۲) محرم - شوال - رجب - ذیحجه

(۳) محرم - صفر - ذیقعد - ذیحجه (۴) محرم - ذیقعد - ذیحجه - شوال

قوانین و مقررات اداری و قانون اساسی

۶۱- کدام یک از امور زیر حاکمیتی نیست؟

(۱) ایجاد فضای سالم برای رقابت و جلوگیری از انحصار و تضییع حقوق مردم

(۲) آموزش و پرورش عمومی و فنی و حرفه ای

(۳) برقراری عدالت و تامین اجتماعی و باز توزیع درآمد

(۴) فراهم نمودن زمینه ها و مزیت های لازم برای رشد و توسعه کشور و رفع فقر و بیکاری

۶۲- اضافه کار بر اساس کدام عامل پرداخت می گردد؟

- (۱) حساسیت خدمات
(۲) اهمیت خدمات
(۳) حجم و کیفیت خدمات
(۴) همه موارد

۶۳- مشخصه ای که براساس آن شاخص های سنجش و ارزشیابی برای امتیاز دهی به عملکرد تهیه می گردد کدام است؟

- (۱) محور ارزشیابی (۲) تشویقات (۳) معیار (۴) شاخص

۶۴- دوره خدمت در پست های مدیریت حرفه ای چند ساله می باشد؟

- (۱) دو (۲) سه (۳) چهار (۴) پنج

۶۵- ورود به خدمت و تعیین صلاحیت استخدامی افرادی که داوطلب استخدام در دستگاه های اجرایی می باشد بر چه اساسی

صورت می گیرد؟

- (۱) مجوزهای صادره (۲) تشکیلات مصوب

- (۳) رعایت مراتب شایستگی و برابری فرصت ها (۴) همه موارد

۶۶- بکارگیری کارمندان باز خریدی در دستگاه های اجرایی

- (۱) ممنوع (۲) بلامانع
(۳) براساس نظر مدیر صورت می گیرد (۴) بستگی به شرایط دارد

۶۷- کدام یک از اهداف ارزشیابی عملکرد نمی باشد؟ (iranarze)

- (۱) ارزشیابی و قضاوت در خصوص سطح عملکرد اختصاصی و عمومی مدیران و کارمندان بر اساس عوامل و معیارهای تعیین شده

- (۲) شناخت نقاط قوت و ضعف مدیران و کارمندان و استفاده از نتایج آن در تصمیم گیری

- (۳) ارزشیابی و حصول اطمینان از تحقق اهداف و برنامه های عملیاتی دستگاه های اجرایی در طول یک دوره معین

- (۴) افزایش رقابت بین کارمندان

۶۸- کدام گزینه از شروط تبدیل وضعیت استخدامی کارمند به رسمی پس از طی دوره آزمایشی سه ساله نیست؟

- (۱) کسب حداقل ۷۵ درصد از مجموع امتیازات (۲) طی دوره های آموزشی و کسب امتیازات لازم

- (۳) کسب نمره قبولی در آزمون ویژه (۴) تایید گزینش

۶۹- چه میزان مرخصی با حقوق برای کارمندان دستگاه های اجرایی در پایان سال قابل ذخیره کردن است؟

- (۱) نصف مرخصی (۲) کل مرخصی (۳) ۱۰ روز (۴) ۲۰ روز

۷۰- منظور از کارمند دستگاه های اجرایی کیست؟

- (۱) فردی است که بر اساس ضوابط و مقررات مربوط در شرکت های دولتی کار می کند

- (۲) منظور کارمندان و وزرای مشغول به کار در قوه قضاییه است .

۳) فردی است که بر اساس مقررات مربوط به موجب حکم و یا قرارداد مقام صلاحیت دار در دستگاه های قضایی مشغول به کار است .

۴) کارمندی که در بخش خدمات شرکت ها، مسئول فعالیت است .

۷۱- تشکیل شرکت های دولتی تحت هر عنوان صرفا با تصویبمجاز است.

۱) مجلس شورای اسلامی

۲) هیات وزیران

۳) اداره ثبت شرکت ها

۴) مجمع تشخیص مصلحت نظام

۷۲- چند روز مرخصی کاری با حقوق و مزایا در سال به کارمندان دستگاه های اجرایی تعلق می گیرد؟

۱) ۲۰ روز

۲) ۲۵ روز

۳) ۱۵ روز

۴) ۳۰ روز

۷۳- مسئولیتی است که از لحاظ سلسله مراتب به طور مستقیم مسئولیت سرپرستی و ارجاع کار به ارزشیابی شونده را دارد و از وی گزارش دریافت می کند.

۱) ارزشیابی کننده

۲) مدیر بلا فصل

۳) تایید کننده

۴) گزینه الف و ب

۷۴- کارمندانی که به صورت غیر منظم و بر حسب نوبت به صورت کشیک یا عناوین مشابه آن در هر یک حالت های زمانی عهده دار انجام مسئولیت های محوله باشند

۱) مشمول پرداخت فوق العاده نوبت کاری می شوند

۲) با رعایت مقررات مربوط از فوق العاده اضافه کار ساعتی برخوردار خواهد بود

۳) مشمول پرداخت فوق العاده نوبت کاری می شوند

۴) گزینه الف و ب

۷۵- کارمندان دستگاه های اجرائی می توانند در طول خدمت خود با موافقت دستگاه ذیربط حداکثر از مرخصی بدون حقوق استفاده نمایند و اگر مرخصی برای ادامه تحصیلات عالی باشد تا قابل افزایش خواهد بود.

۱) یک سال - یک سال

۲) دو سال - یک سال

۳) یک سال - دو سال

۴) سه سال - دو سال

۷۶- کدام گزینه غلط است؟ ایران عرضه

۱) پرداخت اضافه کاری بدون انجام کار اضافی وجاهت قانونی دارد

۲) پرداخت اضافه کاری بدون انجام کار اضافی به نظر مدیر سازمان بستگی دارد

۳) پرداخت اضافه کاری تنها در قبال انجام کار اضافی در ساعات اداری مجاز می باشد

۴) پرداخت اضافه کاری بدون انجام کار اضافی در حکم تصرف غیرقانونی وجوه و اموال عمومی است

۷۷- کارمندان می توانند با موافقت دستگاه اجرائی ساعات کار خود را تا حداکثر چند ساعت تقلیل دهند؟

۱) ۸ ساعت

۲) ۴ ساعت

۳) ۱۱ ساعت

۴) ۶ ساعت

۷۸- کدام گزینه صحیح می باشد؟

- (۱) در به کارگیری و جذب نیروی انسانی جدید و مورد نیاز توسط واحد مجری اولویت با نیروی انسانی جدید است .
 (۲) کاهش قانونی حقوق و مزایای کارکنان واحد مجری در دوره اجرای تفاهم نامه به عنوان تعهدات دستگاه در تفاهم نامه منظور و توسط دستگاه اجرای تأمین می شود.
 (۳) هزینه های ناشی از انعقاد تفاهم نامه نباید از مجموع اعتبارات هزینه های که در بودجه مصوب سالانه پیش بینی شده است، تجاوز کند.
 (۴) موارد الف و ب

۷۹- چه میزان مرخصی با حقوق سالانه کارمندان در دستگاه های اجرائی در طول سال قابل ذخیره کردن است؟

- (۱) کل مرخصی ها (۲) ۲۰ روز (۳) نصف مرخصی ها (۴) ۱۰ روز
 ۸۰- حداقل چند ماه پیش از پایان اعتبار گواهینامه متقاضیان تمدید گواهینامه صلاحیت خدمات مشاوره مدیریتی باید درصدد تمدید آن برآیند؟

- (۱) حداقل ۲ ماه پیش از پایان اعتبار گواهینامه
 (۲) دو ماه پس از انقضای اعتبار گواهینامه
 (۳) حداقل یک ماه پیش از پایان اعتبار گواهینامه
 (۴) یک ماه پس از انقضای اعتبار گواهینامه

◀ ریاضی و آمار مقدماتی

۸۱- اگر $2^x = 4\sqrt{2}$ و $8^y = (\frac{1}{4})^{y-1}$ باشد. حاصل xy کدام است؟ (بانک ملی)

- (۱) $\frac{4}{3}$ (۲) ۱ (۳) ۲ (۴) $\frac{2}{5}$

۸۲- اگر $A = \{1, 3, 3\}$ و $B = \{2, 3, 4\}$ باشد. مجموعه $(A-B) - (B-A)$ کدام است؟ (بانک ملی)

- (۱) \emptyset (۲) $\{2, 3\}$ (۳) $\{4\}$ (۴) $\{1\}$

۸۳- اگر تابع $f = \{(1, 2), (3, 6), (-2, 5), (7, 11)\}$ و تابع $g = \{(1, 0), (2, -1), (5, 11), (6, 9)\}$ باشد، برد تابع $g \circ f$ چند عضو دارد؟ (بانک ملی)

- (۱) ۴ (۲) ۱ (۳) ۲ (۴) ۳

۸۴- هر گاه معادله های $x^2 + 3x + a = 0$ و $x^2 - x - 2a = 0$ دارای یک ریشه مشترک غیر صفر α باشند مقدار $\left\lfloor \frac{\alpha}{7} \right\rfloor$ کدام است؟ (بانک ملی)

- (۱) ۱ (۲) -۲ (۳) -۱ (۴) صفر

۸۵- جمله چهارم در دنباله هندسی $\dots, 3^3x + 3, 2^3x + 2, x$ کدام است؟ (بانک ملی)

۲۷ (۲) ۲۷ (۳) -۲۷ (۴) $\frac{27}{2}$ (۱)

۸۶- حاصل $\int_1^4 \frac{2x^3 - \sqrt{x}}{x^2} dx$ ، کدام است؟ (بانک شهر) {ایران عرضه}

۱۲ (۱) ۱۳ (۲) ۱۴ (۳) ۱۵ (۴)

۸۷- حاصل $\int_{-1}^1 (|2x| - [x]) dx$ ، کدام است؟ (نماد [] به مفهوم جزء صحیح است.) (بانک شهر)

$\frac{5}{2}$ (۱) ۳ (۲) $\frac{7}{2}$ (۳) ۴ (۴)

۸۸- حاصل $\int_0^{\pi} \frac{dx}{\sqrt{1+\tan^2 x}}$ برابر کدام است؟ (بانک شهر)

۱ (۱) ۲ (۲) π (۳) صفر (۴)

۸۹- حاصل $\int_0^{2\pi} \sqrt{2-2\cos x} dx$ کدام است؟ (بانک شهر)

۲ (۱) ۴ (۲) ۶ (۳) ۸ (۴)

۹۰- با شرط $x \neq k\pi + \frac{\pi}{4}$ ، کدام است؟ (بانک شهر)

$\sin x + \cos x + C$ (۱) $\sin x - \cos x + C$ (۲)

$-\sin x + \cos x + C$ (۳) $-\sin x - \cos x + C$ (۴)

۹۱- حاصل عبارت $(\sqrt{3} - \sqrt{3})(\sqrt{12} + 6\sqrt{3})$ کدام است؟ (فراگیر)

$\sqrt{3}$ (۱) $\sqrt{6}$ (۲) $\sqrt{3}$ (۳) $\sqrt{2}$ (۴)

۹۲- مجموعه $A = \{a | \sqrt{a} \in \mathbb{N}, \sqrt{a} < 8\}$ و $B = \{x^y | x = -1, -2, -3, \dots\}$ است. مجموعه $A \cap B$ ، چند عضو دارد؟ (فراگیر)

۱ (۱) ۸ (۲) ۷ (۳) ۱ (۴)

۹۳- در یک دنباله حسابی، جمله دوم و قدر نسبت با هم برابرند. جمله سیزدهم، چند برابر جمله ششم است. (فراگیر)

۲/۴ (۱) ۲/۱ (۲) ۲/۲ (۳) ۲/۳ (۴)

۹۴- طول قسمتی از منحنی $y = 1 + [3x - 1]$ ، در بازه $[0, 1]$ کدام است؟ (متعلق به سایت ایران عرضه) (فراگیر)

$5\sqrt{2}$ (۱) $3\sqrt{10}$ (۲) $\sqrt{10}$ (۳) $2\sqrt{2}$ (۴)

۹۵- اگر $2x + 3a = 60$ باشد، بیشترین مقدار تابع $y = ax + 200$ کدام است؟ (فراگیر)

۱۵۰ (۱) ۳۵۰ (۲) ۲۵۰ (۳) ۲۰۰ (۴)

۹۶- اگر باقیمانده تقسیم چند جمله‌ای $4 + ax^2 + x^4$ بر $x^2 - 2$ برابر ۶ باشد. باقیمانده تقسیم این چند جمله‌ای بر $x + 2$

کدام است؟ (فراگیر)

۱۶ (۱) ۶ (۲) ۸ (۳) ۱۲ (۴)

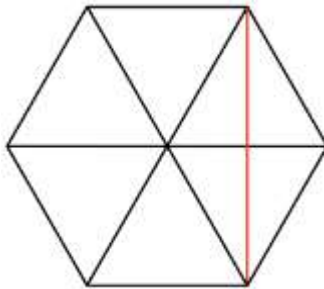
۹۷- در خصوص ریشه‌های معادله $\frac{\sqrt{2x^2 - 5x + 2}}{x-2} = -1$ ، کدام مورد صحیح است؟ (فراگیر)

(۱) ریشه حقیقی ندارد. (۲) دو ریشه مختلف علامت دارد.

(۳) فقط یک ریشه مثبت دارد.

(۴) فقط یک ریشه منفی دارد.

۹۸- چه تعداد از زیر مجموعه های رابطه $R = \{(7, -1), (8, -1), (7, 4)\}$ ، تابع هستند؟ (فراگیر)



(۱) ۶

(۲) ۳

(۳) ۴

(۴) ۵

۹۹- مساحت شش ضلعی منتظمی به ضلع $\sqrt{12}$ ، چند برابر طول کوچکترین قطر این شش ضلعی است؟ (فراگیر)

(۴) $6\sqrt{3}$

(۳) $3\sqrt{3}$

(۲) $3\sqrt{3}$

(۱) $12\sqrt{3}$

۱۰۰- اگر $\{f(\sin x) + 2f(\cos x) = 3 \sin^2 x\}$ باشد، ضابطه تابع $f(x)$ کدام است؟ (فراگیر)

(۴) $3x^2 - 3$

(۳) $2 - 2x^2$

(۲) $3x^2 - 2$

(۱) $3 - 2x^2$

توانمندی های ذهنی و ویژگی های رفتاری

۱۰۱- یک ساعت دیواری در ساعت ۳، تعداد سه زنگ می زند و مدت زنگ ۳ ثانیه طول می کشد اگر این ساعت در ساعت ۹

تعداد نه زنگ بزند مدت زنگ چند ثانیه طول خواهد کشید؟ (بانک مهر اقتصاد)

(۴) ۱۲

(۳) ۱۱

(۲) ۹

(۱) ۱۰

۱۰۲- اگر دو زاویه متوالی یک چهار ضلعی هر دو قائمه و دو ضلع آن با هم مساوی باشد آن چهار ضلعی: (بانک مهر اقتصاد)

(۳) حتما مستطیل نیست

(۱) حتما مستطیل است

(۴) ممکن است دوزنقه یا مستطیل باشد.

(۲) حتما دوزنقه است

۱۰۳- اگر عدد دو رقمی را بر عکس ترتیب ارقام آن بنویسیم، عدد حاصل مربع مجموع ارقام آن خواهد شد ، تفاضل دو رقم

آن در کدام گزینه است؟ (بانک مهر اقتصاد) (متعلق به سایت ایران عرضه)

(۴) ۷

(۳) ۶

(۲) ۵

(۱) ۴

۱۰۴- رابطه فصل با سال مثل رابطه: (بانک ملت) (تهیه شده توسط ایران عرضه)

(۲) روز است با هفته

(۱) ماه است با فصل

(۴) جزء است با کل

(۳) چارک است با من

۱۰۵- متر به پارچه مانند کیلو است به: (بانک ملت)

(۴) برنج

(۳) نفت

(۲) کتاب

(۱) وزن

۱۰۶- متضاد کلمه اسراف کدام است: (بانک ملت)

(۴) تبذیر

(۳) اسرار

(۲) امساک

(۱) اکناف

۱۰۷- کدام ترکیب، مناسبت کمتری با سه ترکیب دیگر دارد؟ (بانک شهر)

۱) جاذب و مجذوب ۲) فاضل و معزول ۳) قادر و مقدور ۴) ناقل و منقول

۱۰۸- حاصل جمع کدام عدد با تصویرش در آئینه، عددی فرد خواهد بود؟ (بانک شهر)

۱) ۱۵ ۲) ۱۷ ۳) ۱۸ ۴) ۷۱

۱۰۹- آنچه که از ارزش واقعی چیزی بکاهد: (بانک شهر)

۱) انتقاد ۲) شایعه ۳) فراوانی ۴) نقص

۱۱۰- در کلاسی هیچ دو پسری در یک روز هفته متولد نشده‌اند. و هیچ دو دختری در یک ماه از سال، به دنیا نیامده‌اند. اگر

پسر یا دختر جدیدی وارد این کلاس شوند دست کم یکی از دو شرط بالا درست نخواهد بود. چند بچه در این کلاس هستند؟

(بانک قرض الحسنه مهر ایران)

۱) ۱۸ ۲) ۱۹ ۳) ۲۰ ۴) ۲۴

۱۱۱- مجموع زاویه های یک چند ضلعی ۲۱۶۰ درجه است این چند ضلعی به ترتیب چند قطر و چند راس دارد؟ (بانک قرض

الحسنه مهر ایران)

۱) ۷۰ و ۱۳ ۲) ۱۴ و ۷۵ ۳) ۷۵ و ۱۴ ۴) ۷۷ و ۱۴

۱۱۲- اگر x یک عدد صحیح مثبت و w یک عدد صحیح منفی باشد مقدار xw چقدر است؟ (بانک قرض الحسنه مهر ایران)

۱) $x^w = 1/3$ ۲) $w^x = -1$

۱۱۳- به جمعیت یک شهر ۱۲۰۰ نفر اضافه میشود سپس ۱۱ درصد از جمعیت کم شد. در این حالت ۳۴ نفر از جمعیت اول

بیشتر است. جمعیت اولیه چند نفر بوده است؟ (بانک صادرات) (تهیه شده توسط ایران عرضه)

۱) ۱۲۰۰ ۲) ۱۱۲۰۰ ۳) ۹۴۰۰ ۴) ۹۰۶۸

۱۱۴- رمز یک کیف چهار رقمی است را فراموش کرده ایم. اگر امتحان کردن هر رمز ۲۰ ثانیه طول بکشد، حداکثر چقدر زمان

لازم است تا کیف باز شود؟ (بانک صادرات)

۱) ۵۵ ساعت ۲) ۵۵/۵ ساعت ۳) ۳۳ ساعت ۴) ۳۳/۶ ساعت

۱۱۵- برای کتابی با ۸۰۴ صفحه چند عدد سه رقمی استفاده کردیم؟ (بانک صادرات)

۱) ۷۰۳ ۲) ۷۰۴ ۳) ۷۰۵ ۴) ۷۰۶

با توجه به متن به سه سوال زیر پاسخ دهید.

پنج نفر اروپایی با ملیت ها و زبان های متفاوت در یک کنفرانس در ژنو شرکت کرده اند. وضعیت این افراد از نظر زبان به

شرح زیر است.

- آقای x اسپانیایی و ایتالیایی صحبت می کند.

- آقای y اسپانیایی و انگلیسی را می فهمد

- آقای z انگلیسی و ایتالیایی صحبت می کند.

- آقای a فرانسه را خوب صحبت میکند و اسپانیایی را خوب می فهمد.

- آقای b ایتالیایی است و فرانسه را نیز صحبت می کند.

- تبعه هر کشور زبان آن کشور را هم می فهمد و هم صحبت می کند .

- کسانی که زبانی را صحبت میکنند آن را نیز می فهمد ولی کسانی که زبانی را می فهمند الزاماً آن را صحبت نمی کنند

۱۱۶- کدام یک از افراد زیر به عنوان مترجم آقای z و آقای a در گفتگوها می تواند عمل کند؟ (پست بانک)

(۱) فقط آقای b (۲) فقط آقای x (۳) آقای x و آقای b (۴) آقای y و آقای b

۱۱۷- کدام افراد میتوانند بدون مترجم با هم گفتگو کنند؟ (پست بانک) (ایران عرضه)

(۱) x و y (۲) z و x (۳) y و b (۴) a و x

۱۱۸- دو زبان که در بین اعضاء این کنفرانس متداول تر است و افراد بیشتری با آن زبانها تکلم میکنند. یا آن را میفهمند.

کدامند؟ (پست بانک)

(۱) انگلیسی و اسپانیایی (۲) انگلیسی و ایتالیایی

(۳) اسپانیایی و ایتالیایی (۴) فرانسه و ایتالیایی

۱۱۹- خلبان های با تجربه معمولاً نسبت به خلبان های مبتدی در یادگیری پرواز با هواپیماهای فوق سبک مشکل بیشتری

دارند. زیرا آنها با هواپیما ها سنگین تر عادت دارند. خلبان با تجربه هنگام پرواز با هواپیماهای فوق سبک مسائل مربوط به

باد را کمتر رعایت میکنند. از جملات فوق استنباط می شود، هواپیماهای سنگین تر: (پست بانک)

(۱) با سختی بیشتری قابل هدایت هستند (۲) در باد راحت تر قابل هدایت هستند

(۳) در بین خلبانان پر طرفداری نیستند (۴) ایمنی کمتری دارند

۱۲۰- با چهار کلمه A, B, C, D چند کلمه سه حرفی میتوان ساخت به طوری که A و B کنار هم باشند؟ (پست بانک)

(۱) ۲۴ (۲) ۱۲ (۳) ۸ (۴) ۳

◀ زبان خارجه

121- Mina was chosen for the job because she was to the others. (بانک ملت)

1) conscious 2) voluntary 3) fashionable 4) superior

122- Scientists are trying to find out when an earthquake occurs "occur" means (بانک ملت)

1) include 2) continue 3) produce 4) happen

123- Mohsen and his brother are six feet tall. They are the same (بانک ملت)

1) Height 2) Length 3) Weight 4) Width

124- He.....me before he took my car; I am annoyed. (بانک صادرات) (source: iran arze website)

1) must ask 2) should ask

3) should have asked

4) must have asked

125- Mary, listen! I have a concern to discuss with you. "Concern" means (بانک صادرات)

1) problem

2) contact

3) wonder

4) contract

126- They had to cut through five hundred feet of.....to build the tunnel. (بانک صادرات)

1) rock

2) layer

3) region

4) mantle

127- He is going it next week. (بانک سینا)

1) to sell

2) sells

3) that sell

4) sell

128- Oranges are a good..... of vitamin C. (بانک سینا)

1) origin

2) production

3) location

4) Source.

129- The Model T car, introduced in 1908..... \$850. (بانک سینا)

1) was priced at

2) a price of

3) to be priced at

4) the price was

130- It is important for her a good job after graduation from university.

(بانک قرض الحسنه مهر ایران)

1) to find

2) finding

3) that find

4) to finding

131- My classmates and I try to a close friendship that can last for years in the future.

(بانک قرض الحسنه مهر ایران)

1) allow

2) educate

3) build

4) value

132- If you want to make your speech effective, try to have eye with your listeners. (بانک قرض الحسنه مهر ایران)

(بانک قرض الحسنه مهر ایران)

1) goal

2) design

3) touch

4) contact

133- The property was ours. It To us. (بانک صادرات) (authorship: iranarze.ir)

1) belong

2) belonged

3) belonging

4) dose not belong

134- Some oh the Are endangered animals. (بانک صادرات)

1) whales

2) goats

3) ducks

4) cats

135- Did you hear the news? They'll a bridge for the village. (بانک صادرات)

1) build

2) building

3) built

4) to build

136- He was to the hospital with acute appendicitis (پست بانک) .

1) crashed

2) rushed

3) pressurized

4) activated

137- Your latest report. I'm, is not up to your usual standard (پست بانک) .

- 1) happy to say 2) frightened 3) afraid 4) jealous and envious

138- Are you going to your house in London while you are aboard? (پست بانک)

- 1) let 2) hire 3) sale 4) dispose

139- The professor's remarks caused him great embarrassment and he deeply regretted not having prepared his lecture (پست بانک)

- 1) complicated 2) wise 3) resurgent 4) malignant

140- The deadline for our assignment has been Now we don't know when we'll submit it or if it will be submitted at all (پست بانک)

- 1) theoretical 2) identical 3) indefinite 4) infinite

فناوری اطلاعات

۱۴۱- برای اینکه با اجرای Search تنها فایل ها و پوشه هایی که عیناً نام KH را دارند لیست شوند باید (بانک مهر اقتصاد)

(۱) در کادر: All or Part of file name عبارت "KH" را تایپ می کنیم .

(۲) در کادر : A word or phrase in the file عبارت KH را تایپ می کنیم .

(۳) در کادر: All or Part of file name عبارت را تایپ می کنیم .

(۴) در کادر Look in کادر "KH" را تایپ می کنیم.

۱۴۲- تایپ قسمت / / http: در نوار آدرس (بانک مهر اقتصاد)

(۱) الزامی است (۲) فقط برای سایتهای com الزامی است

(۳) نیازی به تایپ نیست (۴) فقط برای سایتهای غیر com الزامی است

۱۴۳- کدام یک از موارد زیر را پل ارتباطی بین کامپیوتر و اینترنت می نامند؟ (بانک مهر اقتصاد) {ایران عرضه}

- (۱) IT (۲) ISP (۳) TTP (۴) ISB

۱۴۴- کدامیک از موارد زیر مخصوص نگهداری حجم زیادی از اطلاعات است؟ (بانک ملت) (ایران عرضه)

- (۱) صفحه گسترده (۲) سیستم عامل (۳) پایگاه داده (۴) فایل

۱۴۵- هر نرم افزاری که اجرا می شود در کدام حافظه پردازش می شود؟ (بانک ملت)

- (۱) Rom (۲) Hard Disk (۳) Ram (۴) CD- Drive

۱۴۶- CU کدام واحد است؟ (بانک ملت)

- (۱) محاسبه و منطق (۲) کنترل (۳) پردازشگر (۴) پردازشگر مرکزی

۱۴۷- برای اتصال مانیتور با کامپیوتر از چه کارتی استفاده می شود؟ (بانک قرض الحسنه مهر ایران)

- (۱) صدا (۲) مودم (۳) گرافیکی (۴) تونر

۱۴۸- پنجره My computer (بانک قرض الحسنه مهر ایران)

(۱) حافظه ای برای نگهداری اطلاعات است

(۲) پنجره ای برای مدیریت و سازماندهی فایل ها، پوشه ها و درایورهاست

(۳) برنامه ای برای مدیریت سخت افزار است

(۴) برنامه ای برای سازماندهی تمام امور کامپیوتر است

۱۴۹- موضوع پیام در کدام قسمت نوشته می شود؟ (بانک قرض الحسنه مهر ایران)

- (۱) To (۲) CC (۳) Subject (۴) BCC

۱۵۰- multitasking به چه معناست؟ (بانک صادرات)

(۱) استفاده هم زمان چندین کاربر از سیستم

(۳) اجرای هم زمان چندین سیستم عامل

۱۵۱- معمولا از کدام دامنه جهت آدرس اینترنتی سازمان های دولتی استفاده می شود؟ (بانک صادرات)

- (۱) com (۲) org (۳) gov (۴) ir

۱۵۲- خروجی تابع داده شده کدام است؟ (بانک صادرات)

Round (۱۱۵/۳۶۸,۳)

- (۱) ۱۱۵/۳۶۸ (۲) ۱۱۵/۳۶۹ (۳) ۱۱۵ (۴) ۱۱۵/۳۶۰

۱۵۳- در نرم افزار Access فیلدی که مقدار آن بین تمام رکوردهای جدول یکتاست، گویند.

- (۱) Key Field (۲) Foreign Key (۳) Memo (۴) Index Field

۱۵۴- از کدام ابزار Word برای کپی قالب بندی کاراکتر یا پاراگراف مورد نظر به کاراکتر یا پاراگراف دیگر استفاده می شود؟

- (۱) Copy (۲) Format Painter (۳) Clip Board (۴) Replace

۱۵۵- حافظه ای که بین CPU و RAM تعبیه و از آن برای بالا بردن سرعت دسترسی به داده ها استفاده می شود، چیست؟

- (۱) ROM (۲) CACHE (۳) HARD (۴) EPROM

۱۵۶- کامپیوترهای شخصی جزو کدام یک از دسته بندی کامپیوترهای زیر می باشند؟ (تنظیم توسط فروشگاه ایران عرضه)

- (۱) Mainframe (۲) Micro Computer

- (۳) Mini Computer (۴) Super Computer

۱۵۷- نام پیش فرض فایل های Excel کدام گزینه می باشد؟

- (۱) Document (۲) Book (۳) Word book (۴) Work sheet

۱۵۸- برای حرکت بین کار پوشه های باز از چه روشی استفاده می شود؟

۱) سربرگ View گروه Window ابزار Split

۲) سربرگ View گروه Window ابزار New Window

۳) سربرگ View گروه Window ابزار Arrange All

۴) سربرگ View گروه Window ابزار Switch

۱۵۹- کدام یک از نوارهای زیر فقط در محیط Excel دیده می شود؟

۱) Address Bar ۲) Formula Bar ۳) Ribbon ۴) Quick Access

۱۶۰- در کدام روش برای ایجاد فایل نمایشی می توان از الگوهای موجود استفاده نمود؟

۱) Blank and recent ۲) Installed themes

۳) Install template ۴) New from existing

